




الاسم:	<u>اختبار الفصل الثاني في مادة</u>	مدرسة:
اللقب:	<u>التربية العلمية و التكنولوجيا</u>	الصف الأول ابتدائي
		السنة الدراسية: 2016 / 2015

1 أضع الكلمة المناسبة مكان النقط: (الدوق ، السمع) (1ن)

أتعرف على الأصوات المختلفة بحاسة.....، و على الأذواق بحاسة.....

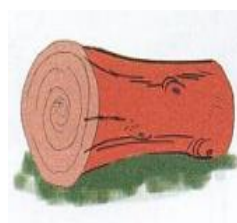
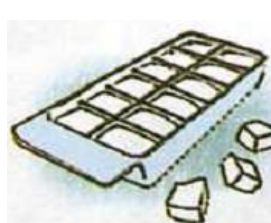

2 أربط بينهم بين الغذاء و مصدره. (2.5ن)



3 أكتب تحت الصورة الحالة التي عليها الجسم: صلب / سائل. (2.5ن)

.....

4 أضع علامة (x) تحت الأجسام الصلبة التي تتحول إلى سائلة بفعل الحرارة. (2ن)



5 أضع (ص) للعبارة الصحيحة و (خ) للعبارة الخاطئة. (2ن)

❖ الإكثار من تناول المشروبات الغازية مفيد للصحة. (.....)

❖ يدخل الهواء و يخرج من الأنف فقط. (.....)

❖ قلبي ينبض باستمرار دون توقف. (.....)

❖ يتكوّن الأسبوع من 6 أيام فقط. (.....)