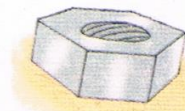
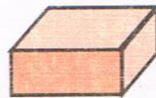


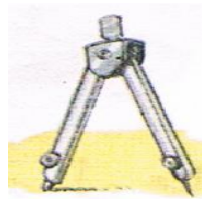



اختبار الفصل الثالث في التربية العلمية

التمرين الأول: أصل أداة الكتابة والرسم بالمادة التي تدخل في تركيبها .






خَشَبٌ

كَلْسٌ

لِدَائِنٌ

مَعْدَنٌ

التمرين الثاني: اكتب نمط تكاثر كل حيوان << بيوض >> << ولود >>



التمرين الثالث: أرتب المراحل التالية : 1 ، 2 ، 3 ، 4 حسب نمو النبات .

