













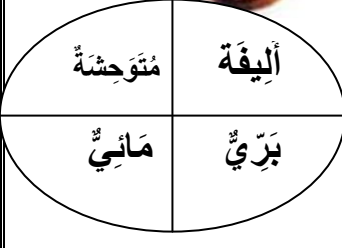
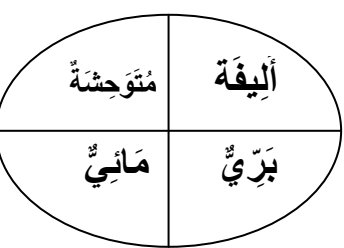




اختبار الفصل الثالث في التربية العلمية

السؤال الاول: (1) لَوْنُ الْأَجَابَةِ الصَّحِيحَةِ أَعْلَى الصَّوْرَةِ وَاخْتَرِ نَمَطَ التَّنْقِلِ اسْفَلَهَا بِالرِّبْطِ بِخَطِّ

 سَمَكَةٌ	 الذئب	 الكنغر	 سلحفاة	 عززة	 حمامة
 بَيُوضَةٌ وَلُودَةٌ	 بَيُوضَةٌ وَلُودَةٌ	 بَيُوضَةٌ وَلُودَةٌ	 بَيُوضَةٌ وَلُودَةٌ	 بَيُوضَةٌ وَلُودَةٌ	 بَيُوضَةٌ وَلُودَةٌ
يَجْرِي	يَقْفَرُ	تَسْبِحُ	تَمْشِي	تَطِيرُ	تَرْحَفُ

السؤال الثاني: اختر الاجابات الصحيحة بالتلوين (مُتَوَحِّشَةٌ، أَلِيفَةٌ) / (بَرِّيٌّ ، مَائِيٌّ)

 عقرب	 قطّة	 دجاجة	 قرش
 أَلِيفَةٌ بَرِّيٌّ مَائِيٌّ مُتَوَحِّشَةٌ	 أَلِيفَةٌ بَرِّيٌّ مَائِيٌّ مُتَوَحِّشَةٌ	 أَلِيفَةٌ بَرِّيٌّ مَائِيٌّ مُتَوَحِّشَةٌ	 أَلِيفَةٌ بَرِّيٌّ مَائِيٌّ مُتَوَحِّشَةٌ

السؤال الثالث: أربط الصورة بما يناسبها

عُشْبٌ

شُجَيْرَةٌ

شَجَرَةٌ

