



الْجُمْهُورِيَّةُ الْجَزَائِرِيَّةُ الدِّيمُقْرَاطِيَّةُ الشَّعْبِيَّةُ
وَزَارَةُ التَّرْبِيَّةِ الْوَطَنِيَّةِ



السَّنَةُ الدِّرَاسِيَّةُ: 2016/2015

ابْتِدَائِيَّةٌ: الشَّهَادَةُ السِّتَّةُ

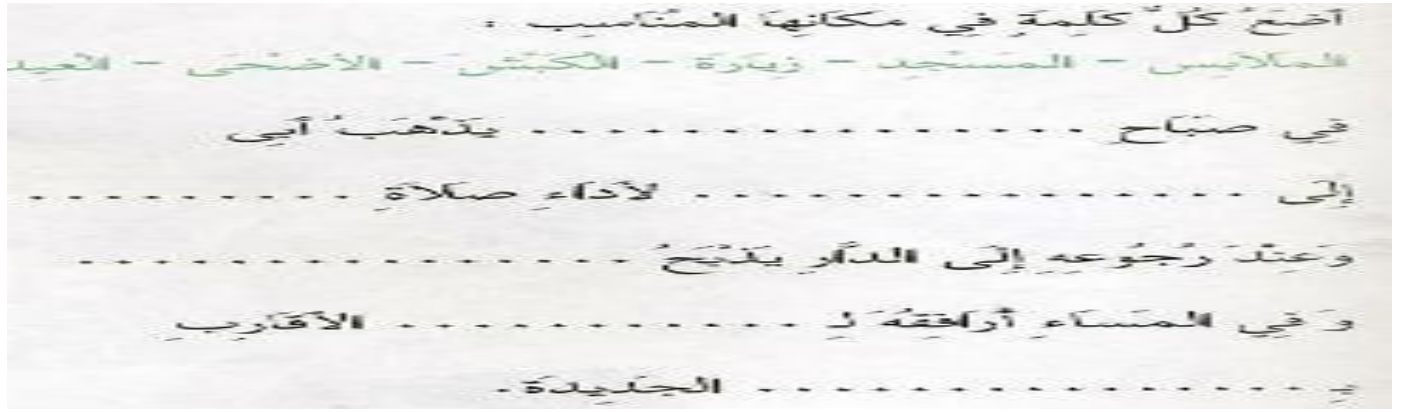
اِخْتِبَارُ الْفَصْلِ الثَّلَاثِ فِي

الْمُدَّةُ: سَاعَةٌ

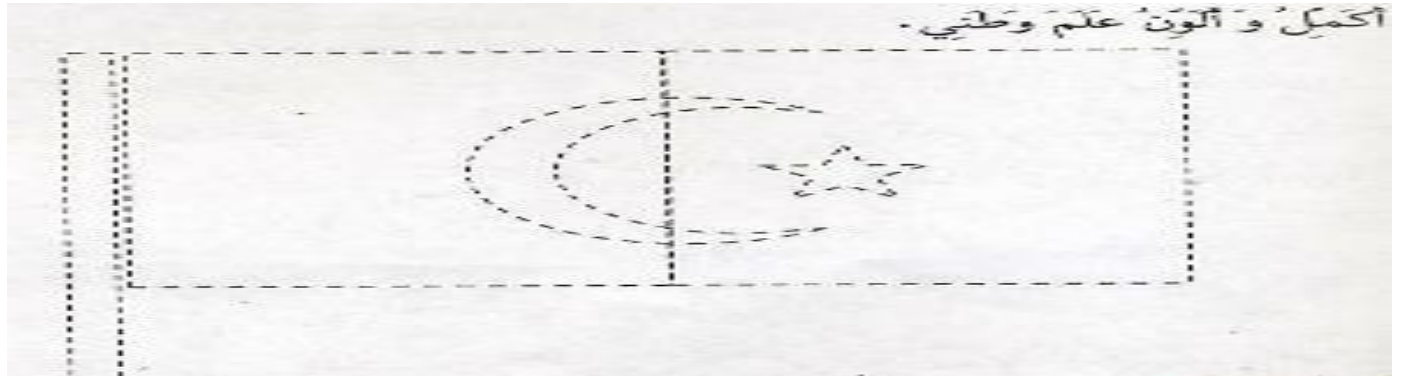
التَّرْبِيَّةِ الْمَدْنِيَّةِ

الْمُسْتَوَى: الْأَوَّلُ

التمرين الأول: (3 نقطة)



التمرين الثاني: (3.5 نقطة)



التمرين الثالث: (1.5 نقطة) أرْبِط العِيدَ بِتَارِيخِهِ

12 ربيع الأول

1 نوفمبر

جويلية

اكتب اسم كل واحد منهم

1 * عيد الثورة

2 * عيد الاستقلال

3 * المولد النبوي الشريف

التمرين الرابع: (2 نقطة)



الاسم:

العلامة: /10

الأستاذ: س.ع



الْجُمْهُورِيَّةُ الْجَزَائِرِيَّةُ الدِّيمُقْرَاطِيَّةُ الشَّعْبِيَّةُ
وَزَارَةُ التَّرْبِيَّةِ الْوَطْنِيَّةِ



السَّنَةُ الدِّرَاسِيَّةُ: 2016/2015

ابْتِدَائِيَّةٌ: الشَّهَدَاءُ السِّتَّةُ

تَصْحِيحُ اخْتِبَارِ الْفَصْلِ الثَّلَاثِ فِي

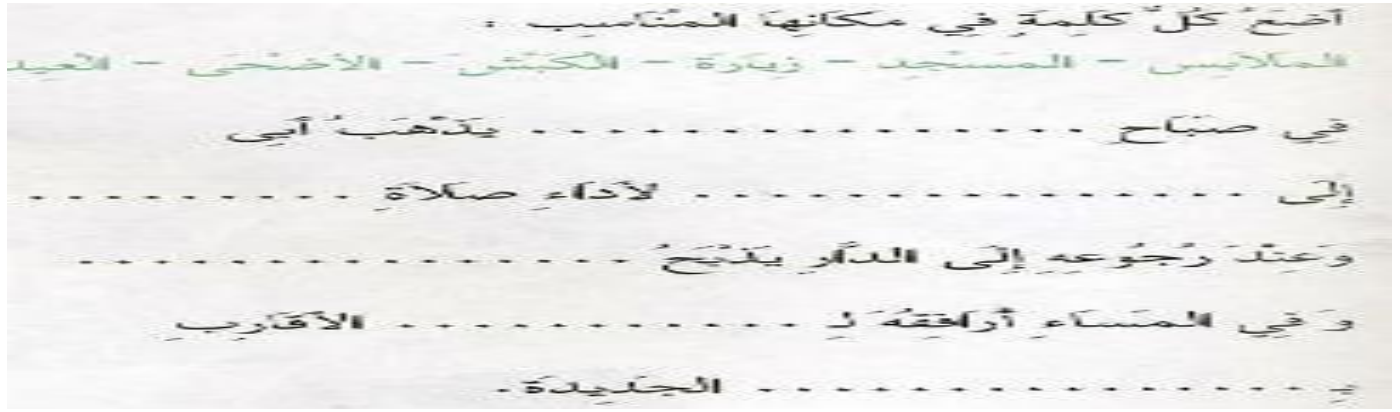
المُدَّة: سَاعَةٌ

التَّرْبِيَّةِ الْمَدْنِيَّةِ

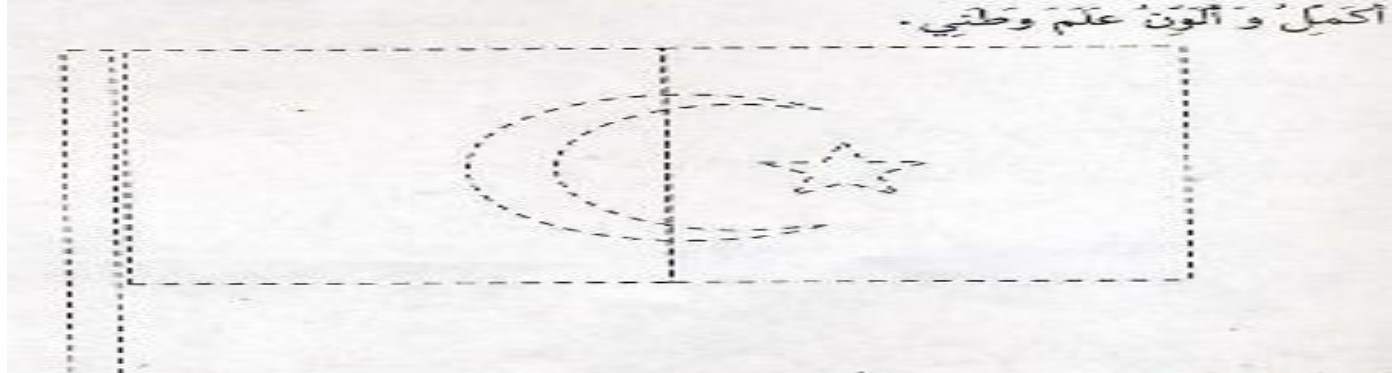
المُسْتَوَى: الْأَوَّلُ

6×0.5

التمرين الأول: (3 نقطة)



التمرين الثاني: (3.5 نقطة)



التمرين الثالث: (1.5 نقطة) أرْبِط العِيدَ بِتَارِيخِهِ

- | | | | |
|-----|---------------|---|--------------------------|
| 0.5 | 12 ربيع الأول | ← | 1 * عيد النورة |
| 0.5 | 1 نوفمبر | ← | 2 * عيد الاستقلال |
| 0.5 | جويلية | ← | 3 * المولد النبوي الشريف |

التمرين الرابع: (2 نقطة) اكتب اسم كل واحد منهم 4×0.5



جندي



إمام



طبيب



معلم

الاسم:

العلامة: /10

الأستاذ: س.ع