


اختبار مارس في الرياضيات

التمرين الأول : أرتب الأعداد التالية ترتيبا تصاعديا 52 - 8 - 60 - 20 - 43 - 16 - 35



التمرين الثاني : أكتب العبارة أصغر من - أكبر من - يساوي في المكان المناسب

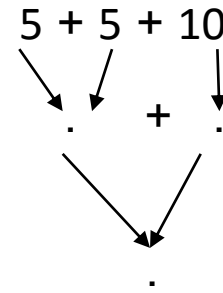
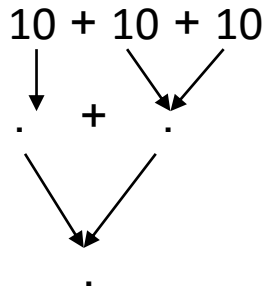
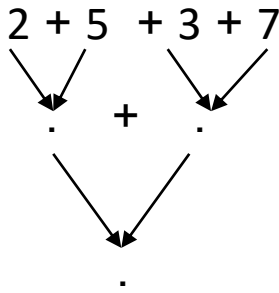
$$22 \dots\dots\dots 45$$

$$10+10+10 \dots\dots\dots 30$$

$$23 \dots\dots\dots 5+ 7$$

$$20 \dots\dots\dots 10+ 10$$

التمرين الثالث : أبسط الكتابات الجمعية.



التمرين الرابع : ألاحظ ثم أكمل المتتالية.

18
----	----	----

..	33	..
----	----	----

41
----	----	----

..	..	59
----	----	----

التمرين الخامس : أرسم شريطا أحمر أطول من الشريط الأسود و شريطا أزرق أقصر منه

