

اليوم :

ابتدائية : مداسي السعيد

اللقب و الاسم :

السنة الدراسية : 2013/2014

المستوى : السنة الأولى ابتدائي

اختبار الفصل الثالث في الرياضيات

التمرين الأول : (02 ن) . أنجز العمليات .



$$\begin{array}{r} 28 \\ + 37 \\ \hline \end{array}$$


$$\begin{array}{r} 39 \\ + 24 \\ \hline \end{array}$$

$$\begin{array}{r} 45 \\ + 20 \\ \hline \end{array}$$

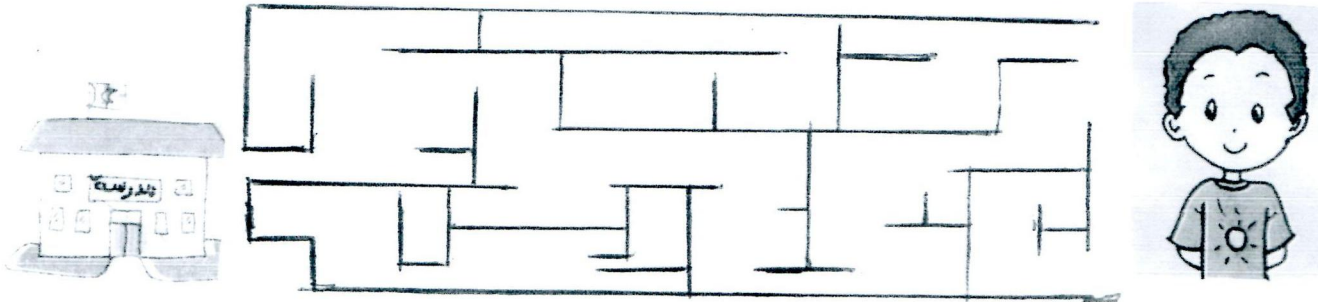
$$\begin{array}{r} 46 \\ + 22 \\ \hline \end{array}$$

التمرين الثاني : (03 ن) . أكتب العدد المناسب بالحروف و الأرقام .

	الكتابة بالأرقام	الكتابة بالحروف
	04
	ثمانية



التمرين الثالث : (01 ن) . ألون المسلك الذي يتبعه التلميذ للوصول إلى المدرسة .



التمرين الرابع : (02 ن) . أذكر اسم الجسم .

- أنا مجسم ليس لي أوجه و لا أحرف و لا رؤوس و أتدحرج من أنا ؟ (.....)
- أنا مجسم لي 6 أوجه متماثلة و لي 8 رؤوس و 12 حرفا من أنا ؟ (.....)

التمرين الخامس : (02 ن) . أكمل للحصول على أعداد متتالية .

90

..... 80

59 61

..... 75

إمضاء الولي