

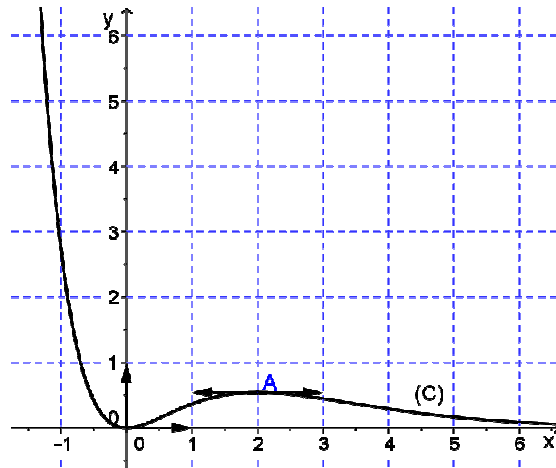
Dans tous les exercices le plan est rapporté à un repère orthonormé (O, \vec{i}, \vec{j}) .

Exercice 1 (Principale 2008)

I) On a représenté ci-dessous la courbe (C) d'une fonction f définie, continue et dérivable sur \mathbb{R} .

On sait que la courbe (C) admet :

- Une asymptote d'équation $y = 0$ au voisinage de $+\infty$ et une branche parabolique de direction (O, \vec{j}) au voisinage de $-\infty$.
- Seulement deux tangentes horizontales ; l'une au point O et l'autre au point $A(2, 4e^{-2})$



En utilisant le graphique :

- 1) Déterminer $\lim_{x \rightarrow +\infty} f(x)$; $\lim_{x \rightarrow -\infty} f(x)$ et $\lim_{x \rightarrow -\infty} \frac{f(x)}{x}$
- 2) Déterminer, suivant la valeur du paramètre réel m , le nombre de solutions de l'équation $f(x) = m$.

II) On suppose que la fonction f est définie par : $f(x) = x^2 e^{-x}$. On note f' la fonction dérivée de f .

- 1) Vérifier que, pour tout réel x , $f'(x) = 2xe^{-x} - f(x)$.
- 2) Soit $I = \int_0^2 x e^{-x} dx$ et $J = \int_0^2 f(x) dx$
 - a) Montrer, à l'aide d'une intégration par parties, que $I = 1 - 3e^{-2}$.
 - b) En utilisant II – 1); montrer que $J = 2I - \int_0^2 f'(x) dx$
 - c) En déduire la valeur de J et interpréter graphiquement le résultat.

Exercice 2 (Contrôle 2008)

Soit la fonction f définie sur $]0, +\infty[$ par $f(x) = \ln\left(\frac{x+1}{x}\right)$. On désigne par (C) sa courbe représentative.

- 1) Calculer $\lim_{x \rightarrow 0^+} f(x)$ et $\lim_{x \rightarrow +\infty} f(x)$. Interpréter graphiquement les résultats.
- 2) a) Montrer que pour tout x de $]0, +\infty[$, $f'(x) = \frac{-1}{x(x+1)}$
 - b) Dresser le tableau de variation de f .
- 3) Tracer (C) .
- 4) Soit n un entier naturel non nul.
 - a) Montrer que l'équation $f(x) = \frac{1}{n}$ admet une solution unique x_n dans $]0, +\infty[$.

b) Vérifier que $x_n = \frac{1}{e^{\frac{1}{n}-1}}$.

c) Calculer $\lim_{n \rightarrow +\infty} \frac{x_n}{n}$

Exercice 3 (Principale 2009)

Soit f la fonction définie sur \mathbb{R} par $f(x) = 1 + e^x - xe^x$. On note (\mathcal{C}) sa courbe représentative.

1) On donne ci- contre le tableau de variation de f .

x	$-\infty$	0	$+\infty$
$f'(x)$	+	0	-
$f(x)$			

- a) Justifier que la restriction g de f à l'intervalle $[0, +\infty[$ réalise une bijection de $[0, +\infty[$ sur $]-\infty, 2]$.
- b) Montrer que l'équation $f(x) = 0$ admet dans \mathbb{R} , une solution unique α .
- c) Vérifier que $1 < \alpha < 1,5$

2) a) Calculer $\lim_{x \rightarrow +\infty} \frac{f(x)}{x}$ Interpréter graphiquement le résultat .

- b) Etudier la position relative de la courbe (\mathcal{C}) et la droite Δ d'équation $y = x$.
- c) Tracer (\mathcal{C}) et Δ .

3) On note g^{-1} la fonction réciproque de g et (\mathcal{C}') sa courbe représentative. Tracer (\mathcal{C}')

4) a) Vérifier que la fonction F définie par $F(x) = x + (2 - x)e^x$ est une primitive de f sur \mathbb{R} .

b) Calculer l'aire A de la partie du plan limitée par la courbe (\mathcal{C}) , la droite Δ et les droites d'équations $x = 0$ et $x = 1$

c) En déduire que $\int_1^2 g^{-1}(x) dx = e - 2$

Exercice 4 (Contrôle 2009)

Soit la fonction f définie sur \mathbb{R} par : $f(x) = \frac{1}{2} \ln(1 + e^{-x})$. On désigne par (ζ) sa courbe représentative.

1) a) Montrer que f est dérivable sur \mathbb{R} et que pour tout $x \in \mathbb{R}$, $f'(x) = \frac{1}{2} \times \frac{1}{1+e^x}$

b) Etudier les variations de f .

c) Vérifier que pour tout $x \in \mathbb{R}$, $f(x) = -\frac{1}{2}x + \frac{1}{2} \ln(1 + e^x)$.

d) En déduire que la droite $\Delta: y = -\frac{1}{2}x$ est une asymptote à (ζ) en $-\infty$.

Etudier la position relative de (\mathcal{C}) et Δ .

e) Tracer (\mathcal{C}) et Δ .

2) a) Montrer que l'équation $f(x) = x$ admet dans \mathbb{R} une solution unique α .

b) Vérifier que $0 < \alpha < 1$.

3) a) Montrer que pour tout $x \geq 0$; $|f'(x)| \leq \frac{1}{4}$

b) En déduire que tout $x \geq 0$; $|f(x) - \alpha| \leq \frac{1}{4}|x - \alpha|$.

4) Soit la suite définie sur \mathbb{N} par : $\begin{cases} U_0 = 0 \\ U_{n+1} = f(U_n) \end{cases}$

a) Montrer que pour tout $n \in \mathbb{N}$; $U_n \geq 0$.

b) Montrer que pour tout $n \in \mathbb{N}$; $|U_{n+1} - \alpha| \leq \frac{1}{4}|U_n - \alpha|$.

c) En déduire que pour tout $n \in \mathbb{N}$; $|U_n - \alpha| \leq \left(\frac{1}{4}\right)^n$.

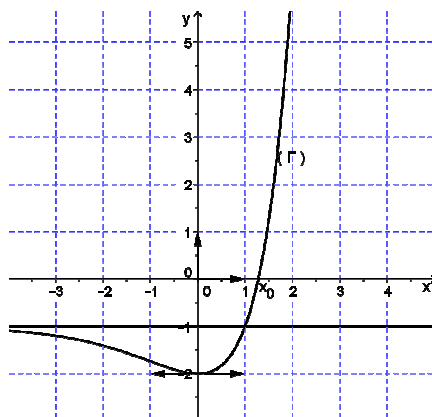
d) Calculer $\lim_{n \rightarrow +\infty} U_n$.

Exercice 5 (Principale 2010)

1) La courbe (Γ) ci-dessous est celle d'une fonction g définie, continue et dérivable sur \mathbb{R} .

On sait que :

- La droite d'équation $y = -1$ est une asymptote à (Γ) au voisinage de $(-\infty)$.
- La courbe (Γ) admet une seule tangente horizontale.
- La courbe (Γ) coupe l'axe des abscisses (O, \vec{i}) en un unique point x_0 .



En utilisant le graphique :

- Déterminer $g(0)$ et $g'(0)$.
 - Déterminer le signe de g sur \mathbb{R} .
- 2) La fonction g est définie sur \mathbb{R} par $g(x) = (\alpha x + \beta)e^x - 1$ où α et β sont deux réels.
- Exprimer $g(0)$ et $g'(0)$ en fonction de α et β .
 - Déduire, en utilisant 1)a), que pour tout réel x , $g(x) = (x - 1)e^x - 1$.

Dans la suite de l'exercice, on considère la fonction f définie sur \mathbb{R}^* par $f(x) = \frac{e^{x+1}}{x}$

On désigne par (\mathcal{C}) sa courbe représentative.

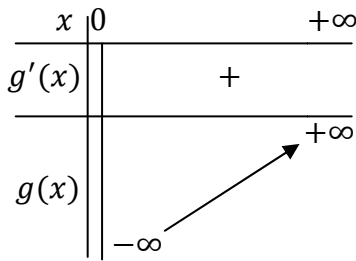
- Calculer $\lim_{x \rightarrow -\infty} f(x)$, $\lim_{x \rightarrow 0^-} f(x)$ et $\lim_{x \rightarrow 0^+} f(x)$. Interpréter graphiquement le résultat.
 - Calculer $\lim_{x \rightarrow +\infty} f(x)$.
 - Justifier que la courbe (\mathcal{C}) admet une branche parabolique de direction (O, \vec{j}) au voisinage de $+\infty$.
- Vérifier que pour tout $x \in \mathbb{R}^*$, $f'(x) = \frac{g(x)}{x^2}$
 - Dresser le tableau de variation de f .
 - Montrer que $f(x_0) = \frac{1}{x_0 - 1}$
- Tracer (\mathcal{C}) . (On prendra $x_0 = 1,2$).

Exercice 6 (Contrôle 2010)

I)

On donne ci-dessous le tableau de variation de la fonction g définie sur $]0, +\infty[$

par $g(x) = 2x^3 - 1 + 2 \ln x$.



- 1) Justifier que l'équation $g(x) = 0$ admet une unique solution α et que $0,75 < \alpha < 1$.
- 2) Déterminer, suivant les valeurs de x ; le signe de $g(x)$.

II)

Soit la fonction f définie sur $]0, +\infty[$ par $f(x) = 2x - 1 - \frac{\ln x}{x^2}$, On désigne par (\mathcal{C}) sa courbe.

- 1) a) Calculer $\lim_{x \rightarrow 0^+} f(x)$ et $\lim_{x \rightarrow +\infty} f(x)$.
 - b) Montrer que la droite $\Delta: y = 2x - 1$ est une asymptote à la courbe (\mathcal{C}) au voisinage de $+\infty$.
 - c) Etudier la position relative de (\mathcal{C}) et Δ .
- 2) a) Montrer que pour tout $x \in]0, +\infty[$, $f'(x) = \frac{g(x)}{x^3}$
 - b) Dresser le tableau de variation de f .
- 3) tracer (\mathcal{C}) et Δ .
- 4) Calculer l'aire de la partie du plan limitée par la courbe (\mathcal{C}) et la droite Δ et les droites d'équations $x = 1$ et $x = e$.

Exercice 7 (Principale 2011)

Soit la fonction f définie sur \mathbb{R} par $f(x) = (1 + x)e^{-x}$. On désigne par (\mathcal{C}) la courbe représentative de f .

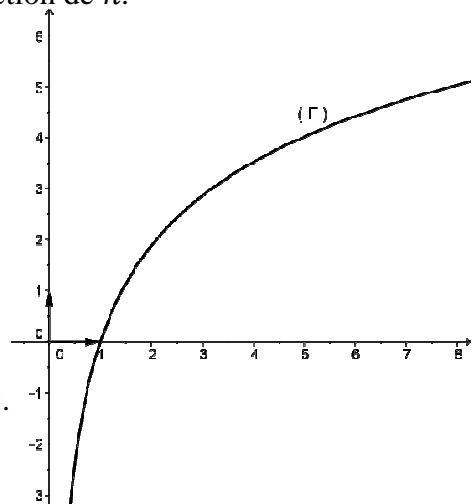
- 1) a) Calculer $\lim_{x \rightarrow -\infty} f(x)$ et $\lim_{x \rightarrow +\infty} f(x)$.
 - b) Montrer que pour tout réel x , $f'(x) = -xe^{-x}$.
 - c) Dresser le tableau de variation de f .
 - 2) a) Calculer $\lim_{x \rightarrow -\infty} \frac{f(x)}{x}$. Interpréter graphiquement le résultat obtenu.
 - b) Tracer la courbe (\mathcal{C}) .
 - 3) Soit $n \in \mathbb{N}^*$. On désigne par A_n l'aire de la partie du plan limitée par la courbe (\mathcal{C}) , les axes du repère et la droite d'équation $x = n$.
 - a) A l'aide d'une intégration par parties, calculer A_n en fonction de n .
- Calculer $\lim_{n \rightarrow +\infty} A_n$

Exercice 8 (Contrôle 2011)

La courbe (Γ) ci-contre est celle d'une fonction g définie, continue et dérivable sur $]0, +\infty[$.

On sait que (Γ) n'admet aucun extremum.

- 1) a) Par lecture graphique, donner le signe de g sur $]0, +\infty[$.
 - b) En déduire que, pour tout $x \in]0, +\infty[$, $(x - 1)g(x) \geq 0$.



2) La fonction g est définie sur $]0, +\infty[$ par $g(x) = 2 \ln x + \frac{x-1}{x}$

On considère la fonction f définie sur $]0, +\infty[$ par $f(x) = (x-1)^2 \ln(x) + x - 1$ et on désigne par (C_f) la courbe représentative de f .

- a) Montrer que, pour tout $x \in]0, +\infty[$, $f'(x) = (x-1)g(x) + 1$.
 - b) Dresser le tableau de variation de f .
- 3) Soit (T) la tangente à la courbe (C_f) au point I d'abscisse 1.
- a) Vérifier que (T) a pour équation : $y = x - 1$.
 - b) Etudier la position relative de (C_f) et (T) .
 - c) Tracer la courbe (C_f) .

Exercice 9 (Principale 2012)

Le tableau de variation suivant est celui de la fonction f définie sur $[1, +\infty[$ par : $f(x) = 2 - x + \ln x$.

x	1	$+\infty$
$f'(x)$	0	-
$f(x)$	1	$-\infty$

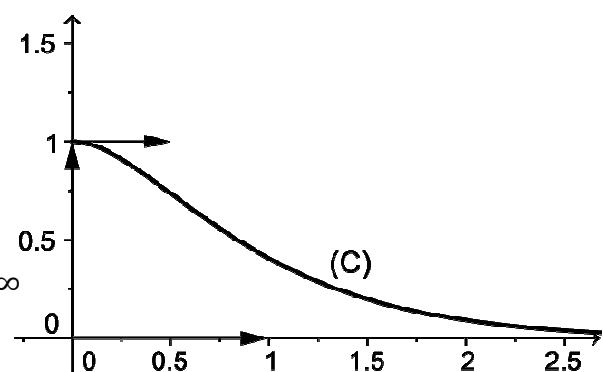
- 1) a) Montrer que l'équation $f(x) = 0$ admet dans $]1, +\infty[$ une unique solution α et que : $\ln \alpha = \alpha - 2$
 - b) En déduire le signe de $f(x)$ sur l'intervalle $[1, +\infty[$.
- 2) Soit la suite $(U_n)_{n \in \mathbb{N}}$ définie par : $\begin{cases} U_0 = 1 \\ U_{n+1} = 2 + \ln U_n \end{cases}$
- a) Montrer que pour tout entier naturel n ; $1 \leq U_n \leq \alpha$
 - b) Montrer que la suite $(U_n)_{n \in \mathbb{N}}$ est croissante.
 - c) En déduire que la suite $(U_n)_{n \in \mathbb{N}}$ est convergente et déterminer sa limite.

Exercice 10 (Principale 2012)

On a représenté ci-contre dans un repère orthonormé la courbe (C) d'une fonction f définie, continue, dérivable et strictement décroissante sur $[0, +\infty[$.

On sait que la courbe (C) :

- * admet l'axe des abscisses comme asymptote au voisinage de $+\infty$
- * atteint son maximum au point d'abscisse 0.



- 1) Par lecture graphique :
 - a) Déterminer $f(0)$; $\lim_{x \rightarrow +\infty} f(x)$ et $f'_d(0)$ (nombre dérivé à droite en 0)
 - b) Montrer que f est une bijection de $[0, +\infty[$ sur un intervalle J que l'on déterminera.
- 2) Tracer la courbe (C') de la fonction f^{-1} réciproque de f .

On note β l'abscisse du point d'intersection des deux courbes (C) et (C') .

- 3) On sait que la fonction f est définie sur $[0, +\infty[$ par $f(x) = (ax + b)e^{-2x}$ où a et b sont deux réels.
 - a) En utilisant 1) a) montrer que pour tout x de $[0, +\infty[$; $f(x) = (2x + 1)e^{-2x}$

b) Soit $I = \int_0^\beta (2x + 1)e^{-2x} dx$

A l'aide d'une intégration par parties, montrer que : $I = 1 - (\beta + 1)e^{2\beta}$.

c) On désigne par \mathcal{A} l'aire de la partie (E) du plan limitée par la courbe (C'), l'axe des abscisses et les droites d'équations $x = \beta$ et $x = 1$.

Hachurer (E) et déterminer \mathcal{A} en fonction de β .

Exercice 11 (Contrôle 2012)

1) Soit la fonction g définie sur $]0, +\infty[$ par $g(x) = 1 - \frac{1}{x} + \ln x$. On note (C) sa courbe représentative.

a) Calculer $\lim_{x \rightarrow 0^+} g(x)$ et $\lim_{x \rightarrow +\infty} g(x)$.

b) Calculer $\lim_{x \rightarrow +\infty} \frac{g(x)}{x}$ et interpréter graphiquement le résultat.

c) Montrer que g est dérivable sur $]0, +\infty[$ et que, pour tout $x \in]0, +\infty[$; $g'(x) = \frac{1+x}{x^2}$

d) Dresser le tableau de variation de la fonction g .

2) a) Donner une équation cartésienne de la tangente (T) à la courbe (C) au point d'abscisse 1.

b) Tracer (C) et (T).

3) Soit f la fonction définie sur $]0, +\infty[$ par $f(x) = -1 + (x - 1) \ln x$.

On donne ci-dessous le tableau de variation de f .

x	0	1	$+\infty$
$f'(x)$		-	0
			+
$f(x)$	$+\infty$		$+\infty$
		-1	

a) Montrer que l'équation $f(x) = 0$ admet dans l'intervalle $]0, +\infty[$ exactement deux solutions notées α et β . (On prendra $\alpha < \beta$).

b) Justifier que $0,2 < \alpha < 0,3$ et que $2,2 < \beta < 2,3$.

4) Soit (E) la partie du plan limitée par la courbe (C), l'axe des abscisses et les droites d'équations α et β .

On désigne par A l'aire de (E).

a) Hachurer (E).

b) Vérifier que pour tout $x \in]0, +\infty[$; $f'(x) = g(x)$.

c) Montrer que $A = \int_1^\alpha g(x) dx + \int_1^\beta g(x) dx$

d) En déduire la valeur de A.

Exercice 12 (Principale 2013)

Soit la fonction f définie sur \mathbb{R} par $f(x) = (x + 2)e^{-\frac{1}{2}x}$. On désigne par (C) sa courbe représentative.

1) a) Calculer $\lim_{x \rightarrow -\infty} f(x)$ et $\lim_{x \rightarrow +\infty} \frac{f(x)}{x}$ Interpréter graphiquement le résultat.

- b) Montrer que $\lim_{x \rightarrow +\infty} f(x) = 0$ Interpréter graphiquement le résultat.
- 2) Déterminer les coordonnées des point E et F intersection de la courbe (C) avec respectivement, l'axe des abscisses et l'axe des ordonnées.
- 3) a) Dresser le tableau de variation de f .
 b) Montrer que la courbe (C) admet un point d'inflexion K dont on déterminera les coordonnées.
 c) Tracer la courbe (C) .
- 4) On pose $I_0 = \int_{-2}^2 e^{-t} dt$ et pour tout $n \in \mathbb{N}^*$; $I_n = \int_{-2}^2 (t+2)^n e^{-t} dt$
 a) Montrer que : $I_0 = e^2 - \frac{1}{e^2}$
 b) A l'aide d'une intégration par parties, montrer que pour tout $n \in \mathbb{N}$: $I_{n+1} = (n+1)I_n - \frac{4^{n+1}}{e^2}$
 c) Calculer I_1 et I_2 .
- 5) On désigne par (D) le domaine du plan limité par la courbe (C) , l'axe des abscisses et les droites d'équations $x = -2$ et $x = 2$.
 a) Hachure le domaine (D) .
 b) Soit \mathcal{V} volume du solide de révolution engendré par la rotation de (D) autour de l'axe des abscisses.

Calculer \mathcal{V} .

Exercice 13 (Contrôle 2013)

- 1) Soit la fonction f définie sur $[0, +\infty[$ par $f(x) = xe^{1-x}$.
 a) Montrer que : pour tout $x \geq 1$; $f(x) \leq x$ et que pour tout $0 \leq x \leq 1$; $f(x) \geq x$.
 b) Vérifier que pour tout $x \in [0, +\infty[$; $f'(x) = (1-x)e^{1-x}$.
 c) Dresser le tableau de variation de la fonction f sur $[0, +\infty[$.
- 2) Soit la suite (U_n) définie sur \mathbb{N} par $\begin{cases} U_0 = \frac{1}{2} \\ U_{n+1} = f(U_n) \end{cases}$ pour tout $n \in \mathbb{N}$.
 a) Montrer que pour tout entier naturel n ; $0 \leq U_n \leq 1$.
 b) Montrer que la suite (U_n) est croissante.
 c) En déduire que la suite (U_n) est convergente et calculer sa limite.

Exercice 14 (Contrôle 2013)

Soit la fonction f définie sur $]0, +\infty[$ par $\begin{cases} f(x) = x^2 - 2x^2 \ln x & \text{si } x \in]0, +\infty[\\ f(0) = 0 \end{cases}$

On désigne par (C) sa courbe représentative.

- 1) a) Montrer que f est continue à droite en 0.
 b) Montrer que f est dérivable à droite en 0 et interpréter graphiquement le résultat.
- 2) Calculer $\lim_{x \rightarrow +\infty} f(x)$ et $\lim_{x \rightarrow +\infty} \frac{f(x)}{x}$ Déterminer la nature de la branche infinie de (C) .
- 3) a) Montrer que pour tout $x \in]0, +\infty[$; $f'(x) = -4x \ln x$.
 b) Dresser le tableau de variation de f .
- 4) Déterminer les abscisses des points d'intersections de la courbe (C) avec l'axe (O, \vec{i}) .

5) Construire (C) . On précisera en particulier la tangente à (C) au point O .

6) Soit α un réel tel que $0 < \alpha < \sqrt{e}$.

a) En utilisant une intégration par partie, montrer que :

$$\int_{\alpha}^{\sqrt{e}} x^2 \ln x \, dx = \frac{1}{9} \alpha^3 - \frac{1}{3} \alpha^3 \ln \alpha + \frac{1}{18} e \sqrt{e}$$

b) Soit $A(\alpha)$ l'aire de la partie du plan limitée par les axes des abscisses, la courbe (C) et les droites d'équations $x = \alpha$ et $x = \sqrt{e}$. Calculer $A(\alpha)$.

c) Montrer que $\lim_{\alpha \rightarrow 0^+} A(\alpha) = \frac{2}{9} e \sqrt{e}$.

Exercice 15 (Principale 2014)

Soit f la fonction définie sur $]0, +\infty[$ par :

$$\begin{cases} f(x) = x(1 - \ln x)^2 + 1 & \text{si } x > 0 \\ f(0) = 1 \end{cases}$$

et \mathcal{C} sa courbe représentative.

1) Calculer $\lim_{x \rightarrow +\infty} f(x)$ et $\lim_{x \rightarrow +\infty} \frac{f(x)}{x}$. Interpréter graphiquement le résultat.

2) a) En utilisant l'égalité : $x \ln^2 x = (\sqrt{x} \ln x)^2$ pour tout $x \in]0, +\infty[$; montrer que $\lim_{x \rightarrow 0^+} x \ln^2 x = 0$

b) En déduire que f est continue à droite en 0.

c) Etudier la dérivabilité de f à droite en 0

et interpréter graphiquement le résultat.

3) On a tracé ci-contre dans le repère (O, \vec{i}, \vec{j})

* la courbe Γ de la fonction dérivée f' de f .

* la tangente Δ à la courbe \mathcal{C} au point $A(1, 2)$.

On sait que la courbe Γ coupe l'axe des abscisses

aux points d'abscisses $\frac{1}{e}$ et e et qu'elle admet

au point $B(1, -1)$ une tangente horizontale.

Par lecture graphique :

a) Déterminer le signe de f' sur $]0, +\infty[$ et dresser le tableau de variation de f .

b) Montrer que A est un point d'inflexion de la courbe \mathcal{C} .

4) Tracer la courbe \mathcal{C} de f dans le repère (O, \vec{i}, \vec{j}) .

5) Soit $0 < \alpha < \frac{1}{e}$

On désigne par A_α l'aire de la partie du plan limitée par la courbe Γ de la fonction dérivée f' , l'axe des abscisses et les droites d'équations $x = \alpha$ et $x = \frac{1}{e}$

Montrer que $A_\alpha = 1 + \frac{4}{e} - f(\alpha)$ et en déduire $\lim_{\alpha \rightarrow 0^+} A_\alpha$

